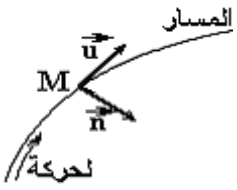


متجهة التسارع في أساس فريني



$$(M; \vec{u}; \vec{n})$$

أصله M ينطبق مع موضع المتحرك في كل لحظة
 \vec{u} : متجهة واحدة مماسة للمسار وموجهة في
 منحنى الحركة

\vec{n} : متجهة واحدة منظمية على المسار وموجهة
 نحو تقعره

تعبير التسارع في أساس فريني: $\vec{a} = \vec{a}_T + \vec{a}_N = a_T \vec{u} + a_N \vec{n}$

$$\|\vec{a}\| = \sqrt{a_T^2 + a_N^2}$$

بحيث: $a_T = \frac{dv}{dt}$ و $a_N = \frac{V^2}{R}$ هي شعاع المسار

قوانين نيوتن:

القانون الأول: مبدأ القصور

في معلم غاليليا، إذا كان مجموع القوى الخارجية المطبقة على جسم صلب منعدم

$$\sum \vec{F}_{ext} = \vec{0}$$

فان متجهة سرعة مركز القصور تكون ثابتة:

القانون الثاني: العلاقة الأساسية للديناميك

في معلم غاليليا، مجموع متجهات القوى الخارجية المطبقة على جسم صلب يساوي في كل لحظة، جداء كتلة الجسم ومتجهة تسارع مركز القصور:

$$\sum \vec{F}_{ext} = m \vec{a}_G$$

القانون الثالث: التأثيرات المتبادلة

$$\vec{F}_{A/B} = -\vec{F}_{B/A}$$

معلمة نقطة من حركة المتحرك

ننسب حركة المتحرك الى معلم فضاء ومعلم زمان مرتبطين بجسم مرجعي

*متجهة الموضع: نختار معلم الفضاء $(o; \vec{i}; \vec{j}; \vec{k})$ متعامد منظم

إحداثيات متجهة الموضع: $\vec{OM} = x\vec{i} + y\vec{j} + z\vec{k}$ بحيث:

z, x هي الإحداثيات الديكارتية للمتحرك في معلم $(o; \vec{i}; \vec{j}; \vec{k})$

وهي تمثل أيضا المعادلات الزمنية لحركة المتحرك ونعبر عنها ب:

$$\begin{cases} x = f(t) \\ y = g(t) \\ z = h(t) \end{cases}$$

منظم متجهة الموضع: $\|\vec{OM}\| = \sqrt{x^2 + y^2 + z^2}$

متجهة السرعة اللحظية:

متجهة السرعة اللحظية لمركز قصور جسم صلب تساوي مشتقة متجهة الموضع

$$\vec{V}_G = \frac{d\vec{OM}}{dt} : m.s^{-1}$$

بالنسبة للزمن ووحدتها هي $m.s^{-1}$ لدينا: $\vec{OM} = x\vec{i} + y\vec{j} + z\vec{k}$ اذن:

$$\vec{V}_G = \frac{d\vec{OM}}{dt} = \frac{d(x\vec{i} + y\vec{j} + z\vec{k})}{dt} = \frac{dx}{dt}\vec{i} + \frac{dy}{dt}\vec{j} + \frac{dz}{dt}\vec{k}$$

$$\Leftrightarrow \vec{V}_G = \dot{x}\vec{i} + \dot{y}\vec{j} + \dot{z}\vec{k}$$

بحيث: $v_x = \frac{dx}{dt} = \dot{x}$ و $v_y = \frac{dy}{dt} = \dot{y}$ و $v_z = \frac{dz}{dt} = \dot{z}$

منظم متجهة السرعة: $\|\vec{V}_G\| = \sqrt{v_x^2 + v_y^2 + v_z^2}$

متجهة التسارع:

متجهة التسارع لمركز قصور جسم صلب تساوي مشتقة متجهة السرعة اللحظية

$$\vec{a}_G = \frac{d\vec{V}_G}{dt} : m.s^{-2}$$

$$\vec{a}_G = \frac{d\vec{V}_G}{dt} = \frac{d(v_x\vec{i} + v_y\vec{j} + v_z\vec{k})}{dt} = \frac{dv_x}{dt}\vec{i} + \frac{dv_y}{dt}\vec{j} + \frac{dv_z}{dt}\vec{k}$$

$$\Leftrightarrow \vec{a}_G = \ddot{x}\vec{i} + \ddot{y}\vec{j} + \ddot{z}\vec{k}$$

بحيث: $a_x = \frac{dv_x}{dt} = \ddot{x}$ و $a_y = \frac{dv_y}{dt} = \ddot{y}$ و $a_z = \frac{dv_z}{dt} = \ddot{z}$

منظم متجهة التسارع: $\|\vec{a}_G\| = \sqrt{a_x^2 + a_y^2 + a_z^2}$

حركة مستقيمة منتظمة	حركة مستقيمة متغيرة بانتظام
$a_G = 0$	$a_G \neq 0 \Rightarrow a_G = cte$
$V_G = cte$	$V_G(t) = at + V_0$
$x(t) = at + x_0$	$x(t) = \frac{1}{2}at^2 + V_0t + x_0$

ملحوظة:

إذا كان $a_G > 0$: تكون حركة مستقيمة متغيرة بانتظام متسارعة

$a_G < 0$: تكون حركة مستقيمة متغيرة بانتظام متباطئة

العلاقة المستقلة عن الزمن:

$$V_B^2 - V_A^2 = 2.a_G.(x_B - x_A)$$

المعادلات الزمنية التي تحققها احداثيات مركز القصور

$$x = \int (V_0 \cos \alpha) dt \Rightarrow V_0 \cos \alpha t + x_0^*$$

نحدد x_0 : نأخذ عند اللحظة $t = 0$

$$x = V_0 \cos \alpha t : \text{اذن } x_0 = 0$$

$$y = \int (-g t + V_0 \sin \alpha) dt = -\frac{1}{2} g t^2 + V_0 \sin \alpha t + y_0^*$$

نحدد y_0 : نأخذ عند اللحظة $t = 0$ لدينا $y_0 = 0$

$$y = -\frac{1}{2} g t^2 + V_0 \sin \alpha t : \text{اذن}$$

$$\overrightarrow{OG} \begin{cases} x = V_0 \cos \alpha t \\ y = -\frac{1}{2} g t^2 + V_0 \sin \alpha t \end{cases}$$

معادلة المسار

$$(1) t = \frac{x}{V_0 \cos \alpha} : \text{نأخذ المعادلة الزمنية التالية: } x = V_0 \cos \alpha t \text{ ثم نجد}$$

$$y = -\frac{1}{2} g t^2 + V_0 \sin \alpha t : \text{فنعوها في المعادلة الزمنية}$$

$$y = -\frac{1}{2} g \cdot \left(\frac{x}{V_0 \cos \alpha} \right)^2 + V_0 \sin \alpha \cdot \frac{x}{V_0 \cos \alpha}$$

$$\Leftrightarrow y = -\frac{1}{2} g \cdot \frac{x^2}{V_0^2 \cos^2 \alpha} + \frac{V_0 \sin \alpha}{V_0 \cos \alpha} \cdot x : \text{فنجد}$$

$$\Leftrightarrow y = -\frac{1}{2} g \cdot \frac{x^2}{V_0^2 \cos^2 \alpha} + (\tan \alpha) \cdot x$$

المسار شلجمي

احداثيات قمة المسار

$$\begin{cases} x_f = \frac{V_0^2 \sin 2\alpha}{2g} \\ y_f = \frac{V_0^2 \sin^2 \alpha}{2g} \end{cases}$$

احداثيات المدى

$$\begin{cases} x_f = \frac{V_0^2 \sin 2\alpha}{g} \\ y_f = 0 \end{cases}$$

IV تطبيقات:

المراحل المتبعة لتطبيق القانون الثاني لنيوتن هي كما يلي:

المرحلة الأولى: تحديد المجموعة المدروسة.

المرحلة الثانية: جرد القوى وتمثيلها على الشكل.

المرحلة الثالثة: كتابة العلاقة المعبرة عن القانون الثاني لنيوتن بالنسبة للمجموعة المدروسة (وهي علاقة متجهية).

المرحلة الرابعة: اختيار معطى مناسب.

المرحلة الخامسة: إسقاط العلاقة المعبرة عن القانون الثاني لنيوتن في هذا المعطى.

دراسة حركة قذيفة:

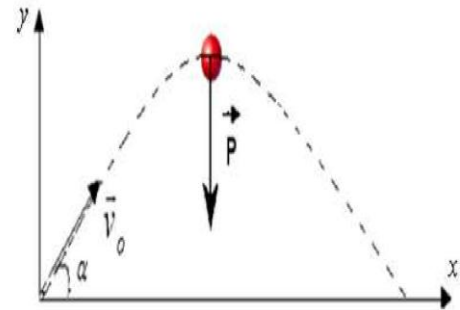
المجموعة المدروسة: القذيفة

القوى المطبقة: \vec{P} وزن الكرة

بتطبيق القانون الثاني لنيوتن على الكرة:

$$\sum \vec{F}_{ext} = m \cdot \vec{a}_G$$

$$\vec{P} = m \cdot \vec{a}_G$$

نسقط العلاقة السابقة على محور $R(o; x; y)$ 

* على المحور (ox)

$$\vec{P}_x \perp (ox) \text{ لأن } \vec{P}_x = m \vec{a}_{Gx} \Leftrightarrow 0 = m \cdot a_{Gx} \Leftrightarrow a_{Gx} = 0$$

* على المحور (oy)

$$\vec{P}_y = m \vec{a}_{Gy} \Leftrightarrow -m \cdot g = m \cdot a_{Gy} \Leftrightarrow a_{Gy} = -g$$

المعادلات الزمنية التي يحققها التسارع

$$\vec{a}_G \begin{cases} a_{Gx} = 0 \\ a_{Gy} = -g \end{cases}$$

المعادلات الزمنية التي تحققها سرعة مركز القصور

$$V_x = V_{0x} \text{ اذن } V_{0x} = cte \text{ ولدينا أن } V_x = \int a_{Gx} = cte^*$$

$$V_x = V_0 \cos \alpha \text{ ومنه فان } V_{0x} = V_0 \cos \alpha$$

$$V_y = \int (-g) dt = -g t + V_{0y}^* \text{ اذن } V_{0y} = V_0 \sin \alpha$$

$$V_y = -g t + V_0 \sin \alpha$$

$$\vec{V} \begin{cases} V_x = V_0 \cos \alpha \\ V_y = -g t + V_0 \sin \alpha \end{cases}$$

* هي مشتقة الافصول الزاوي بالنسبة للزمن $\omega = \dot{\theta} = \frac{d\theta}{dt} \rightarrow rad.s^{-1}$

* السرعة الخطية: مشتقة الافصول المنحني بالنسبة للزمن: $v = \frac{ds}{dt} \rightarrow m.s^{-1}$

العلاقة بين السرعة الزاوية والسرعة الخطية:

$$s = R.\theta \quad \text{اذن} \quad v = R.\dot{\theta} \quad \Leftrightarrow \quad \frac{ds}{dt} = R.\frac{d\theta}{dt}$$

هو مشتقة السرعة الزاوية بالنسبة للزمن: $\ddot{\theta} = \frac{d\dot{\theta}}{dt} \rightarrow m.s^{-2}$

التسارع الخطي: $a_G = R.\ddot{\theta}$

العلاقة الاساسية لديناميك لجسم صلب في دوران حول محور ثابت

في معلم مرتبط بالرض , وبالنسبة لمحور ثابت (Δ) مجموع عزوم القوى

المطبقة على جسم صلب في دوران حول محور ثابت , يساوي في كل لحظة , جداء

عزم القصور J_Δ والتسارع الزاوي $\ddot{\theta}$ للجسم :

$$\sum M(\vec{F}) = J_\Delta.\ddot{\theta} \leftarrow rad.s^{-2}$$

$$kg.m^{-2}$$

الدوران المتغير بانتظام

الدوران المنتظم

$$\ddot{\theta} \neq 0$$

$$\ddot{\theta} = 0$$

التسارع

$$\dot{\theta}(t) = \ddot{\theta}t + \dot{\theta}_0$$

$$\dot{\theta} = cte \Rightarrow \dot{\theta} = \dot{\theta}_0$$

المعادلة الزمنية
للسرعة الزاوية

$$\theta(t) = \frac{1}{2}\ddot{\theta}t^2 + \dot{\theta}t + \theta_0$$

$$\theta(t) = \dot{\theta}t + \theta_0$$

المعادلة الزمنية
للافصول الزاوي

تطبيقات

نعتبر مجموعة ميكانيكية مكونة من:

* بكرة (D) كتلتها m_0 وشعاعها r قابلة

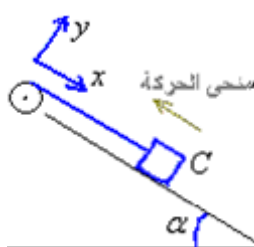
للدوران حول محور ثابت

* جسم صلب (C) كتلته m موضوع فوق

مستوى مائل بزواوية α

(C) * خيط غير قابل للامتداد ملفوف حول مجرى

البكرة وطرفه الاخر مثبت بالجسم



1) نحذر المجموعة فينزلق الجسم نحو الاسفل (الاحتكاكات مهمة)

عبر عن تسارع المجموعة بدلالة m_0, m, α, g

* المجموعة المدروسة {الجسم

* جرد القوى: الجسم C يخضع للقوى التالية: * وزنه.

* \vec{R} : تأثير المستوى المائل.

* \vec{T} : القوة المطبقة من طرف الخيط.

بتطبيق قانون نيوتن الثاني على الجسم أثناء حركته في معلم $R(0; \vec{i}; \vec{j})$

$$\sum \vec{F} = m.\vec{a}_G \Leftrightarrow \vec{P} + \vec{R} + \vec{T} = m.\vec{a}_G$$

نسقط على المحور (oy) : $\vec{P}_y + \vec{R}_y + \vec{T}_y = m.\vec{a}_{Gy}$

$$P \cos \alpha - R_N = 0 \Leftrightarrow P \cos \alpha = R_N$$

نسقط على المحور (ox) : $\vec{P}_x + \vec{R}_x + \vec{T}_x = m.\vec{a}_{Gx}$

$$-P \sin \alpha + T = m.a_x$$

$$\Leftrightarrow T = P \sin \alpha + m.a \quad (1)$$

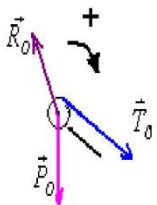
* المجموعة المدروسة {البكرة}

* جرد القوى: تخضع البكرة للقوى التالية:

- \vec{P}_0 : وزنها.

- \vec{R}_0 : تأثير محور الدوران.

- \vec{T}_0 : القوة المطبقة من طرف الخيط.



* تطبيق العلاقة الأساسية للتحريرك على البكرة $\sum M(\vec{F}) = J_\Delta.\ddot{\theta}$

$$M_\Delta(\vec{P}_0) + M_\Delta(\vec{R}_0) + M_\Delta(\vec{T}_0) = J_\Delta.\ddot{\theta}$$

$$M_\Delta(\vec{P}_0) = M_\Delta(\vec{R}_0) \quad \text{لان} \quad \vec{P}_0 \perp \vec{R}_0$$

$$M_\Delta(\vec{T}_0) = -T_0.r$$

$$\text{اذن} \quad (2) -T_0.r = J_\Delta.\ddot{\theta} \Leftrightarrow T_0 = -\frac{J_\Delta.\ddot{\theta}}{r}$$

ولدينا $T_0 = T$ لان كتلة الخيط مهمة وغير قابل للامتداد: اذن من

$$(1) \text{ و } (2) \text{ نستنتج ان} \quad P \sin \alpha + m.a = -\frac{J_\Delta.\ddot{\theta}}{r}$$

ونعلم ان: $a = R.\ddot{\theta}$ ومنه فان

$$P \sin \alpha = -\frac{J_\Delta.a}{r^2} - m.a \Leftrightarrow m.g.\sin \alpha = a \left(-\frac{J_\Delta}{r^2} - m \right)$$

$$\Leftrightarrow a = \frac{m.g.\sin \alpha}{-\frac{J_\Delta}{r^2} - m} = \frac{m.g.\sin \alpha}{-\frac{m_0.r^2}{2} - m}$$

$$\Leftrightarrow a = \frac{m.g.\sin \alpha}{-\frac{m_0}{2} - m} \Leftrightarrow a = \frac{-g.\sin \alpha}{\frac{m_0}{2} + 1}$$

$$T = \frac{2\pi}{\frac{v}{r}} \Leftrightarrow T = \frac{2\pi}{\frac{v}{r}} \Leftrightarrow T = 2\pi \sqrt{\frac{r^3}{G.M_s}}$$

(4) دراسة الحركة المدارية لقمر اصطناعي حول الارض (الاستقمار)

متجهة تسارع مركز قصور الكوكب :

نطبق نيوتن على الكوكب فنجد أن :

$$\sum \vec{F} = m \vec{a}_G \Leftrightarrow \vec{F} = m \vec{a}_G$$

$$\vec{F} = -G \frac{M_T \cdot m}{(r+h)^2} \vec{u}_{T,SAT} \quad \text{و} \quad \vec{a} = \vec{a}_{sat}$$

ومنه فإن : $\vec{a}_{SAT} = -G \frac{M_T \cdot m}{(r+h)^2} \vec{u}_{T,SAT}$ مع الارتفاع h عن

سطح الأرض

السرعة والدور المداري

السرعة المدارية

لدينا $\vec{a}_{SAT} = \frac{v^2}{r} \vec{n}$ و $\vec{a}_{SAT} = -G \frac{M_T \cdot m}{(r+h)^2} \vec{u}_{T,SAT}$ إذن

$\vec{u}_{T,SAT} = -\vec{n}$ و $-G \frac{M_T \cdot m}{(r+h)^2} \vec{u}_{T,SAT} = \frac{v^2}{r} \vec{n}$ ومنه فإن :

$$G \frac{M_T}{r^2} \vec{n} = \frac{v^2}{r} \vec{n} \Leftrightarrow G \frac{M_T}{(r+h)^2} = \frac{v^2}{(r+h)} \Leftrightarrow v^2 = G \frac{M_s}{(r+h)}$$

$$\Leftrightarrow v = \sqrt{G \frac{M_s}{(r+h)}}$$

الدور المداري

نعلم ان $\omega = \frac{v}{r}$ و $T = \frac{2\pi}{\omega}$ إذن

$$T = \frac{2\pi}{\frac{v}{r}} \Leftrightarrow T = \frac{2\pi}{\frac{v}{r}} \Leftrightarrow T = 2\pi \sqrt{\frac{(r+h)^3}{G.M_s}}$$

* يكون قمر اصطناعي ساكنا بالنسبة لملاحظ ارضي إذا كان للقمر اصطناعي نفس دور الأرض

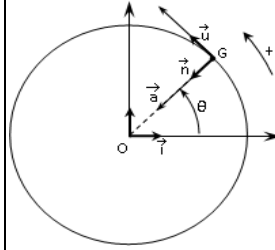
قانون كيبلر الثالث

حيث $a^3 = K = cte$ نصف المحور الكبير للاهليلج و T الدور

المداري للكوكب.

(1) قانون نيوتن لتجاذب الكوني

نعتبر جسمين نقطيين كتلتها على التوالي m_B و m_A وتفصل بينهما المسافة $d = AB$ يطبق أحدهما على الاخر قوة تجاذب تسمى قوة التجاذب الكوني



$$\vec{F} = -G \frac{m_A \cdot m_B}{d^2} \vec{u}_{AB}$$

(2) تبيان أن الحركة دائرية منتظمة

نطبق نيوتن على الكرية فنجد أن :

$$\sum \vec{F} = m \vec{a}_G \Leftrightarrow \vec{F} = m \vec{a}_G$$

ثم نسقط العلاقة على أساس فريني :

على المحور المماسي \vec{u}

$\vec{F} = m \vec{a}_u$ ولدينا ان $\vec{F} = 0$ لان :

$$\frac{dv}{dt} = 0 \Leftrightarrow 0 = m \cdot \frac{dv}{dt} \quad \text{اذن} \quad \vec{a}_u = \frac{d\vec{v}}{dt}$$

وبما ان $\vec{F} \perp \vec{a}_u$ ونعلم ان $\vec{a}_u = \frac{d\vec{v}}{dt}$ اذن الحركة دائرية منتظمة

على المحور المماسي \vec{n} :

$$\vec{a}_n = \frac{v^2}{r} \vec{n} \quad \text{مع أن} \quad \vec{F} = m \vec{a}_n \Leftrightarrow F = m a_n \Leftrightarrow F = m \cdot \frac{v^2}{r}$$

اذن طبيعة الحركة انجاذبية مركزية لان $\vec{a} = \vec{a}_n = \frac{v^2}{r} \vec{n}$

(3) دراسة حركة كوكب حول الشمس (الحركة المدارية)

متجهة تسارع مركز قصور الكوكب :

نطبق نيوتن على الكوكب فنجد أن :

$$\sum \vec{F} = m \vec{a}_G \Leftrightarrow \vec{F} = m \vec{a}_G$$

$$\vec{F} = -G \frac{M_s \cdot m}{r^2} \vec{u}_{SP} \quad \text{و} \quad \vec{a} = \vec{a}_p$$

ومنه فإن : $\vec{a}_p = -G \frac{M_s}{r^2} \vec{u}_{SP}$

السرعة والدور المداري

السرعة المدارية

لدينا $\vec{a}_p = \frac{v^2}{r} \vec{n}$ و $\vec{a}_p = -G \frac{M_s}{r^2} \vec{u}_{SP}$ إذن

$\vec{n} = -\vec{u}_{SP}$ و $-G \frac{M_s}{r^2} \vec{u}_{SP} = \frac{v^2}{r} \vec{n}$ ومنه فإن :

$$G \frac{M_s}{r^2} \vec{n} = \frac{v^2}{r} \vec{n} \Leftrightarrow G \frac{M_s}{r^2} = \frac{v^2}{r} \Leftrightarrow v^2 = G \frac{M_s}{r}$$

$$\Leftrightarrow v = \sqrt{G \frac{M_s}{r}}$$

الدور المداري

نعلم ان $\omega = \frac{v}{r}$ و $T = \frac{2\pi}{\omega}$ إذن